

الاسم و اللقب: .....

مدرسة الشهيد علية عزوزي- الطريفوي

المقاطعة التربوية – الطريفوي- الوادي

القسم: الثانية ابتدائي (أ- ب)

واجب منزلي لعطلة الشتاء في مادة الرياضيات

أَكْتُبِ الأَعْدَادَ بِالأَرْقَامِ أَوْ بِالحُرُوفِ .

.....	89
خَمْسَةٌ وَثَمَانُونَ	.....
.....	88
.....	.....

1. أَحْضِرِ الأَعْدَدَ كَمَا فِي المِثَالِ

30	35	40
40	42	.....
.....	76	80
.....	87	.....

2 أَكْمِلْ

- 5 وَحَدَاتٍ و 4 عَشْرَاتٍ هُوَ الأَعْدَدُ .....
- 7 عَشْرَاتٍ هُوَ الأَعْدَدُ .....
- 3 عَشْرَاتٍ هُوَ ..... وَحَدَةٌ

- 4 وَحَدَاتٍ و 5 عَشْرَاتٍ هُوَ الأَعْدَدُ .....
- 7 عَشْرَاتٍ و 8 وَحَدَاتٍ هُوَ الأَعْدَدُ .....
- 40 وَحَدَةٌ هُوَ ..... عَشْرَاتٍ .

أَحْسِبْ

$$28 = 20 + \dots \quad 28 = \dots + 20$$


$$20 + 7 = \dots \quad 7 + 20 = \dots$$

$$59 = \dots + 9 \quad 59 = 9 + \dots$$

$$70 + 7 = \dots \quad 4 + 70 = \dots$$

3 أَحِطِ الأَعْدَدَ الصَّحِيحَ :

6 عَشْرَاتٍ و 8 وَحَدَاتٍ



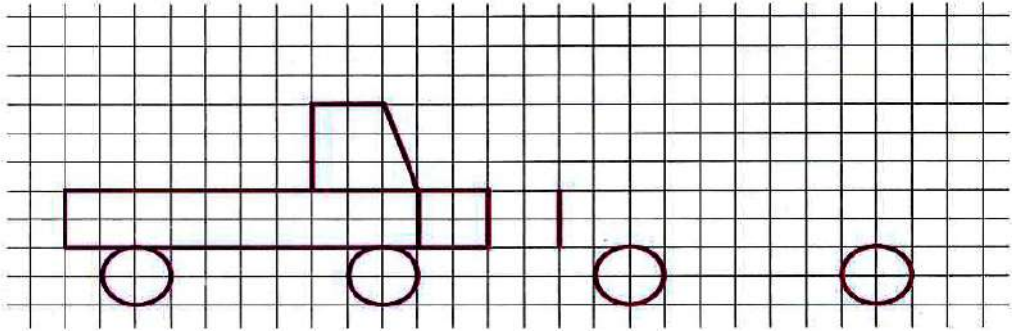
4 عَشْرَاتٍ و 9 وَحَدَاتٍ



5 وَحَدَاتٍ و 6 عَشْرَاتٍ



أَكْمِلْ رَسْمَ مَثِيلٍ لِلنُّمُودَجِ وَلَوْنَهُ



2 ضَعِ الإِشَارَةَ (X) أَمَامَ الاِقْتِرَاحِ الصَّحِيحِ :

- الصَّيَّادُ وَرَاءَ الشَّجَرَةِ
- الشَّجَرَةُ وَرَاءَ الصَّيَّادِ
- الكَلْبُ عَلَى يَمِينِ الصَّيَّادِ
- الكَلْبُ عَلَى يَسَارِ الصَّيَّادِ

2 أَنْجِزْ عَمَلِيَّاتِ الْجَمْعِ.

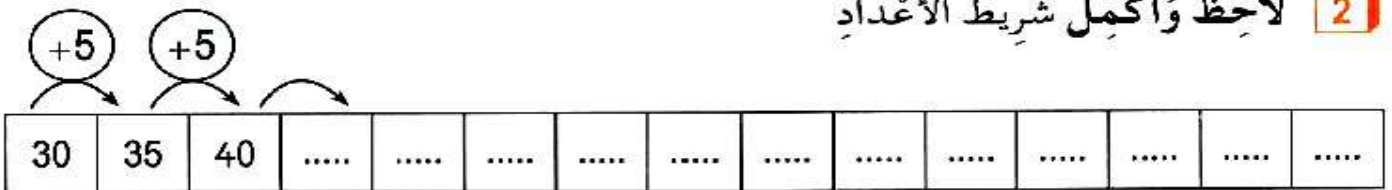
$$\begin{array}{r} 23 \\ + 50 \\ + 12 \\ \hline = \dots \end{array}$$

$$\begin{array}{r} 63 \\ + 5 \\ + 21 \\ \hline = \dots \end{array}$$

$$\begin{array}{r} 27 \\ + \\ \hline 52 \\ \hline = \dots \end{array}$$

$$\begin{array}{r} 35 \\ + \\ \hline 41 \\ \hline = \dots \end{array}$$

2 لَاحِظْ وَأَكْمِلْ شَرِيْطَ الأَعْدَادِ



4 لَدَى أَيْمَنَ 15 قُرَيْصَةً. وَلَدَى رَائِدُ 6 قُرَيْصَاتٍ أَكْثَرَ مِمَّا عِنْدَ أَيْمَنَ. كَمْ قُرَيْصَةً

يَمْلِكُ رَائِدُ ؟

يَمْلِكُ رَائِدُ ..... قُرَيْصَةً

..... = .....