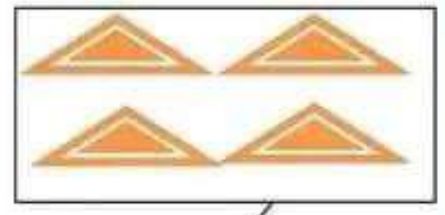

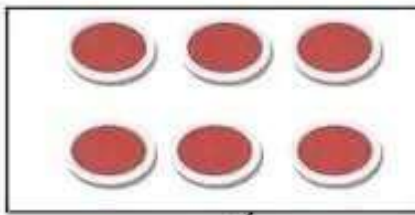


قسم : السنة الاولى ابتدائي
السنة الدراسية :

ابتدائية :
الاستاذ :

اختبار الفصل الثاني في الرياضيات

التمرين الاول: احسب ثم اكتب العدد



التمرين الثاني : اتمم شريط الاعداد تصاعديا

54									63
----	--	--	--	--	--	--	--	--	----

التمرين الثالث : اكمل مايلي :

نصف 8 هو

ضغف 6 هو

$$18 - 3 = \dots\dots\dots$$

$$26 + 4 = \dots\dots\dots$$

التمرين الرابع : صل بين 3 نقاط على استقامة واحدة

