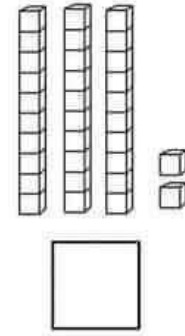
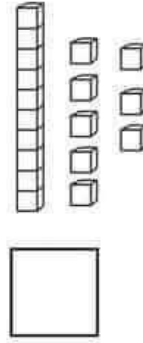
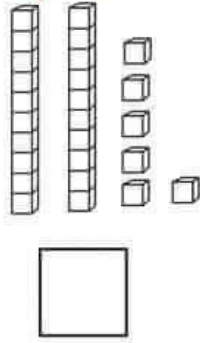




اختبار الفصل الثاني في نشاط الرياضيات

الوضعية الأولى: أكمل كتابة العدد المناسب في كل بطاقة



أرتب الأعداد من الأصغر إلى الأكبر

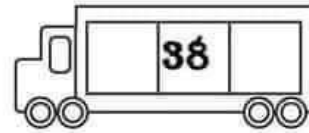
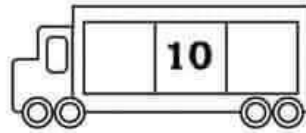
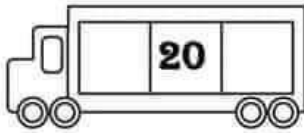
الوضعية الثانية: أكمل العدد المناسب مكان النقط:

نصف 10 هو ضعف 7 هو

الوضعية الثالثة: أحسب عمليات الجمع التالية

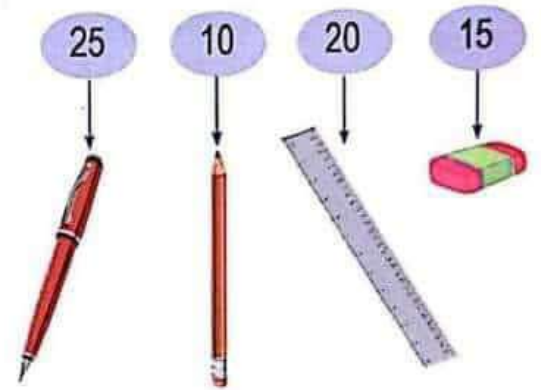
$22+4=.....$ $33+7=.....$ $15+5=.....$

الوضعية الرابعة: أكمل كتابة الأعداد في الحافلة



الوضعية الخامسة: أكتب أسعار الأدوات في الجدول

الأسعار	
	دنانير
	دينارًا
	دينارًا
	دينارًا



الوضعية السادسة: أكتب العملية المناسبة وأجد النتيجة

9 أطفال في السيارة نزل منها 2

كم عدد الأطفال الذين بقوا فيها؟

العملية:

الجواب: عدد الأطفال الذين بقوا في السيارة هو