

تقويم في الرياضيات
ميدان: الأعداد والحساب

التمرين الأول: أربط كل عدد بكتابته بالحروف: (1.5 ن):

16

ثلاثة و ثلاثون

33

أربعة و عشرون

24

سبعة عشرة

التمرين الثاني: أكمل شريط الأعداد: (2.5 ن):






التمرين الثالث: أكتب العدد الذي يسبق والذي يلي: (1.5 ن):

..... 14

..... 25

..... 46

التمرين الرابع: أكتب الأعداد الممثلة بقطع الوحدات والأعمدة: (1.5 ن):



التمرين الرابع: أحسب ما يلي: (3 ن):

$2+5=.$

$5-3=.$

$10+9=.$

$10-9=.$

$20+7=.$

$20-7=.$

