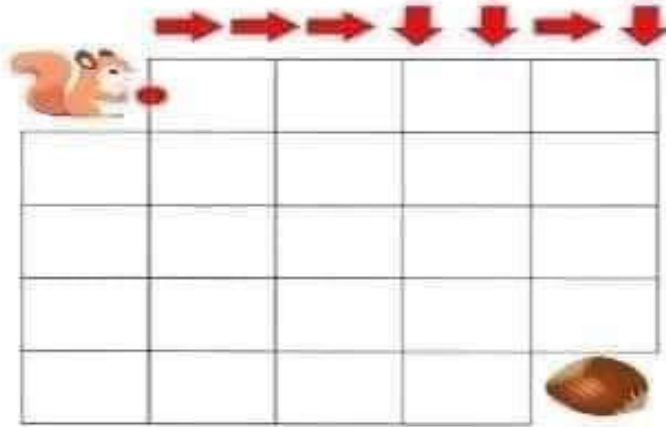



تقويم في الرياضيات

ميدان : الفضاء والهندسة

التمرين الأول: أرسم مسلك السنجاب الذي يتعه للوصول إلى حبة السندق: (3ن):



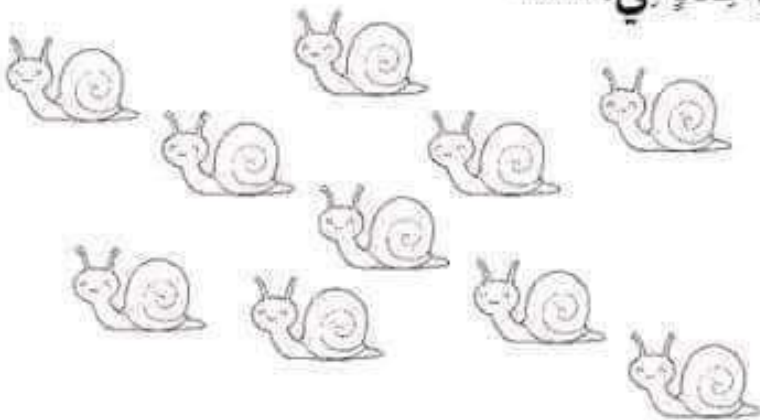
التمرين الثاني: لَوْن الشيء الموجود أمام النحلة بالأحمر والشيء الموجود وراء النحلة بالأصفر (2ن):



التمرين الثالث: (5ن):

ـ عَدِّدُ الحَلَزُونَاتِ الَّتِي عَلَى اسْتِقَامَةٍ وَاحِدَةٍ هِيَ:

ـ لَوْنُهَا.



بالتوفيق صغاري الحلوين