



الرفيق للتعليم
للأستاذ لشهب يونس



الأستاذ لشهب يونس



+ (218) 986 48 48 84

الثانية
ابتدائي

2AP

واجب منزلي
في
الرياضيات

أنجز هذه العمليات العمودية التالية:

التمرين الأول

$$\begin{array}{r} 46 \\ + 22 \\ \hline 12 \\ = \dots \end{array}$$

$$\begin{array}{r} 25 \\ + 11 \\ \hline 8 \\ = \dots \end{array}$$

$$\begin{array}{r} 45 \\ + 29 \\ \hline 29 \\ = \dots \end{array}$$

$$\begin{array}{r} 56 \\ + 34 \\ \hline 34 \\ = \dots \end{array}$$

أكمل كما في المثال :

التمرين الثاني

| تفكيك العدد | كتابتته بالحروف | العدد |
|----------------|-----------------------|-------|
| $100 + 10 + 3$ | مائة وثلاثة عشر | 113 |
| | ثلاثمائة وتسعة وعشرون | |
| | | 489 |
| $400 + 10 + 7$ | | |

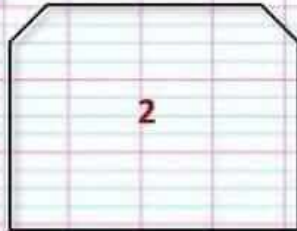
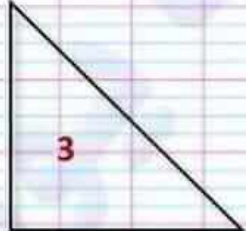

العلامة



العدد الذي رقم عشراته 8 ورقم مئاته 3 ورقم وحداته 4 هو

بإستعمال الكوس ، أبرز الزاوية القائمة ثم لونها

التمرين الثالث



فم بتسمية الشكل رقم 1 ، وكم عدد أضلاعه؟

الوضعية

يملك فلاح 189 خروفاً ، بمناسبة عيد الأضحى قام ببيع بعضها. عدد الخرفان التي باعها

في اليوم الأول محصور بين العددين 80 و 90 ورقم أحاده 2.

ما هو عدد الخرفان التي باعها في اليوم الأول؟

عدد الخرفان التي باعها في اليوم الثاني يفوق ما باعه في اليوم الأول بـ 5 خرفان

ما هو عدد الخرفان التي باعها في اليوم الثاني؟