

## اختبار الفصل الثاني في الرياضيات

التمرين الأول (2ن): (1) أنجز

صفحة المعلم التعليمية

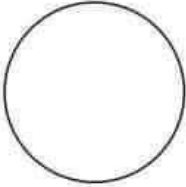


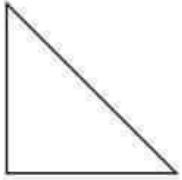
$$\begin{array}{r} 68 \\ - 25 \\ \hline \end{array}$$

$$\begin{array}{r} 76 \\ + 29 \\ \hline \end{array}$$

(2) أكمل

العدد بالأرقام	التفكيك	العدد بالحروف
145	.....	.....
681	.....	.....

التمرين الثاني (2ن): أضع الزوايا القائمة ثم أسمى الشكل

			
.....	.....	.....	.....

التمرين الثالث (2ن): أقيس الأطوال الثلاثة باستعمال المسطرة .

(1) (2) (3) 

أكمل:

طول القطعة (1) هو ..... سنتيمتر
طول القطعة (2) هو ..... سنتيمتر
طول القطعة (3) هو ..... سنتيمتر

الطول الكلي للأطوال الثلاثة معا هو : ..... سنتيمتر