

مجموعة التمارين لام غلاس للسنة الثانية ابتدائي

التلميذ(ة):

وقفة تفويهة في الرياضيات

التمرين الأول: أنجز العمليات التالية

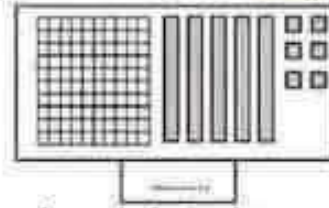
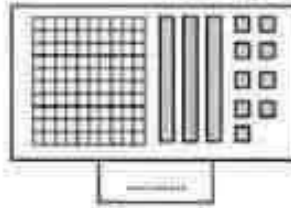
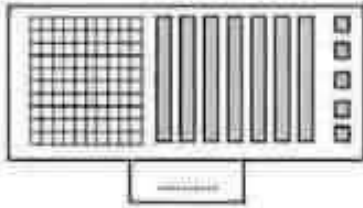
$$\begin{array}{r} 363 \\ + 258 \\ \hline = \\ \dots\dots\dots \end{array}$$

$$\begin{array}{r} 421 \\ + 149 \\ \hline = \\ \dots\dots\dots \end{array}$$

$$\begin{array}{r} 216 \\ + 59 \\ \hline = \\ \dots\dots\dots \end{array}$$

$$\begin{array}{r} 354 \\ + 47 \\ \hline = \\ \dots\dots\dots \end{array}$$



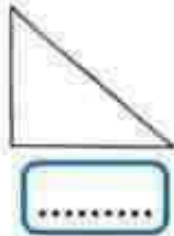
التمرين الثاني: اكتب العدد الممثل في كل خانة



التمرين الثالث: أحصر الأعداد الآتية لما طلب منك

بين متين متتاليتين :	بين عشريتين متتاليتين :
..... < 167 < < 687 <
..... < 372 < < 345 <
..... < 653 < < 857 <

التمرين الرابع: اسمي المضاعفات التالية ثم أعلم بمربع الزوايا القائمة



الوضعية الإدماجية :

صنع خباز 99 خبزة، باع 46 خبزة في الصباح ، و 22 خبزة في المساء.
- كم خبزة باع في اليوم؟ ما هو عدد الخبز المتبقي؟

الإجابات

الحل

العمليات

مجموعة التمارين لام غلاسر للسنة الثانية ابتدائي

التصحیح النوردي

وقفه تقويمية في الرياضيات

التمرين الأول: أنجز العمليات التالية

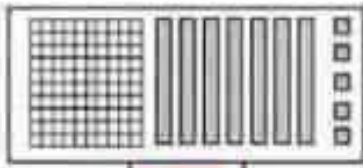
$$\begin{array}{r} 363 \\ + 258 \\ \hline = 621 \end{array}$$

$$\begin{array}{r} 421 \\ + 149 \\ \hline = 570 \end{array}$$

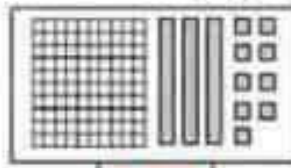
$$\begin{array}{r} 216 \\ + 59 \\ \hline = 275 \end{array}$$

$$\begin{array}{r} 354 \\ + 47 \\ \hline = 401 \end{array}$$

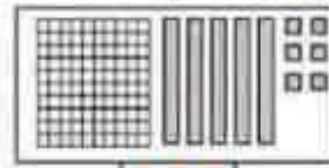
التمرين الثاني: اكتب العدد الممثل في كل خانة



175



139

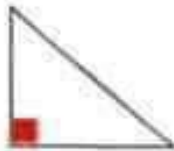


156


التمرين الثالث: أخصر الأعداد التالية لما طلب منك

بين متين متقابلتين:	بين عشريتين متقابلتين:
$1.00 < 167 < 2.00$	$6.80 < 687 < 6.90$
$3.00 < 372 < 4.00$	$3.40 < 345 < 3.50$
$6.00 < 653 < 7.00$	$8.50 < 857 < 8.60$

التمرين الرابع: اسمي المضلعات التالية ثم أعلم بمرجع الزوايا القائمة




مثلث...



مربع...



مستطول...



دائرة...

الوضعية الإدماجية:

صنع خباز 99 خبزة. باع 46 خبزة في الصباح، و 22 خبزة في المساء.
- كم خبزة باع في اليوم؟ ما هو عدد الخبز المتبقي؟

الإجابات

الحل

العمليات

$$46 + 22 = 68$$

باع الخباز في اليوم: 68 خبزة

$$99 - 68 = 31$$

كمية الخبز المتبقي: 31 خبزة

$$\begin{array}{r} 46 \\ + 22 \\ \hline = 68 \end{array}$$

$$\begin{array}{r} 99 \\ - 68 \\ \hline = 31 \end{array}$$

